



TRIBUNAL REGIONAL DO TRABALHO DA 9ª REGIÃO

Concurso Público para provimento de cargos de
Analista Judiciário - Área Apoio Especializado
Especialidade Medicina/Psiquiatria



Prova Cargo E05, Tipo 1
000000000000000000
00001-001-001

Nº de Inscrição
MODELO

P R O V A

Conhecimentos Gerais
Conhecimentos Específicos

INSTRUÇÕES

- Verifique se este caderno:

- corresponde a sua opção de cargo.
- contém 60 questões, numeradas de 1 a 60.

Caso contrário, reclame ao fiscal da sala um outro caderno.

Não serão aceitas reclamações posteriores.

- Para cada questão existe apenas UMA resposta certa.
- Você deve ler cuidadosamente cada uma das questões e escolher a resposta certa.
- Essa resposta deve ser marcada na FOLHA DE RESPOSTAS que você recebeu.

VOCÊ DEVE:

- procurar, na FOLHA DE RESPOSTAS, o número da questão que você está respondendo.
- verificar no caderno de prova qual a letra (A,B,C,D,E) da resposta que você escolheu.
- marcar essa letra na FOLHA DE RESPOSTAS, fazendo um traço bem forte no quadrinho que aparece abaixo dessa letra.

ATENÇÃO

- Marque as respostas primeiro a lápis e depois cubra com caneta esferográfica de tinta preta.
- Marque apenas uma letra para cada questão, mais de uma letra assinalada implicará anulação dessa questão.
- Responda a todas as questões.
- Não será permitida qualquer espécie de consulta, nem o uso de máquina calculadora.
- Você terá 3h30min para responder a todas as questões e preencher a Folha de Respostas.
- Devolva este caderno de prova ao aplicador, juntamente com sua Folha de Respostas.
- Proibida a divulgação ou impressão parcial ou total da presente prova. Direitos Reservados.

FUNDAÇÃO CARLOS CHAGAS
Setembro/2004
010203

CONHECIMENTOS GERAIS

Instruções: Para responder às questões de números 1 a 6 considere o texto abaixo.

1 A expressão “indústria da cultura” foi provavelmente utilizada pela primeira vez no livro **Dialética do Iluminismo** que Horkheimer e eu publicamos em Amsterdan, em 1947. Nas versões iniciais, falava-se de “cultura de massas”.

5 Substituímos esta expressão por “indústria da cultura”, a fim de excluir, logo de início, a interpretação que convém aos advogados daquela, ou seja, que se trataria de qualquer coisa como uma cultura que surge espontaneamente das próprias massas, a forma contemporânea da arte popular.

10 A indústria da cultura encontra-se nos antípodas de tal concepção. Ela reorganiza o que há muito se tornou um hábito, dotando-o de uma nova qualidade. Em todos os setores, os produtos são fabricados mais ou menos segundo um plano, talhados para o consumo das massas e, em larga medida, determinando eles próprios esse consumo. Os setores individuais assemelham-se quanto à estrutura ou, pelo menos, articulam-se entre si. Integram-se no sistema de forma ordenada e praticamente sem falhas, processo que fica a dever tanto aos recursos atuais da

20 tecnologia como à concentração econômica e administrativa. A indústria da cultura é a integração propositada de seus consumidores, a partir de cima. Ela impõe igualmente a junção do domínio específico da arte maior e o da arte menor, domínios que estiveram separados durante séculos.

25 Junção que é desvantajosa para ambos. A seriedade da arte maior perece na especulação sobre os efeitos que produz; a coação civilizacional destrói, por seu turno, o elemento de resistência rebelde que era inerente à arte menor quando o controle da sociedade não era ainda total.

30 Se bem que a especulação da indústria da cultura acerca do estado de consciência ou inconsciência dos milhões de pessoas a quem se dirige seja um fato incontestável, as massas não representam uma realidade primária, mas constituem-se antes como objeto secundário e calculado,

35 um apêndice da engrenagem. O cliente não é rei, como a indústria da cultura gostaria de fazer crer; não é o seu sujeito, mas sim o objeto.

(Adaptado de ADORNO, Theodor W. Breves considerações acerca da indústria da cultura. In: **Sobre a indústria da cultura**. Coimbra: Ângelus Novus, 2003, p. 97-8)

1. Nas linha iniciais do texto,
 - (A) o livro de Horkheimer foi citado como comprovação da idéia cabalmente estabelecida de que a expressão “indústria da cultura” é inovadora.
 - (B) é apresentado de maneira assertiva o fato de que outros autores que antecederam a **Dialética** faziam uso da expressão “cultura de massas”, opondo-a a “indústria da cultura”.
 - (C) a palavra *que* (7ª linha), que introduz o segmento *se trataria de qualquer coisa (...) da arte popular*, tem como antecedente o pronome *daquela*.
 - (D) o cotejo estabelecido pela palavra *como* (8ª linha) esclarece a distinção entre “cultura de massas” e “forma contemporânea da arte popular”, tal como proposta pelos defensores da primeira expressão.
 - (E) está expressa a idéia de que a substituição feita pelos autores não se deu pela revisão da natureza do fenômeno designado, mas para não favorecer certo tipo de leitura do fato.
2. A frase *A indústria da cultura encontra-se nos antípodas de tal concepção*, no contexto, deve ser entendida da seguinte maneira:
 - (A) o modo como a indústria cultural se estrutura na contemporaneidade opõe-se diametralmente ao modo espontâneo como as massas se expressavam anteriormente.
 - (B) a concepção de que a cultura de massas é qualquer coisa que implique manifestação de arte reverte o sentido que se dava à expressão, sendo-lhe acrescentada a qualidade de “popular”.
 - (C) o modo como o autor do texto compreende a indústria da cultura é incompatível com o entendimento de que ela se constitui de manifestações espontâneas das massas.
 - (D) a interpretação que o autor do texto propõe como correta para a expressão “indústria da cultura” contrapõe-se à idéia de que existe uma forma contemporânea de arte popular.
 - (E) “cultura de massas” e “forma contemporânea da arte” são manifestações que, embora em extremidades opostas, não apresentam a contradição que o autor vê na aproximação dos termos “indústria” e “da cultura”.

3. *Integram-se no sistema de forma ordenada e praticamente sem falhas, processo que fica a dever tanto aos recursos atuais da tecnologia como à concentração econômica e administrativa. A indústria da cultura é a integração propositada de seus consumidores, a partir de cima. Ela impõe igualmente a junção do domínio específico da arte maior e o da arte menor, domínios que estiveram separados durante séculos. Junção que é desvantajosa para ambos. A seriedade da arte maior perece na especulação sobre os efeitos que produz; a coação civilizacional destrói, por seu turno, o elemento de resistência rebelde que era inerente à arte menor quando o controle da sociedade não era ainda total.*

Considerando o fragmento acima, e o contexto, assinale a única afirmação INCORRETA.

- (A) Uma possível redação para o segmento grifado, totalmente adequada à norma da gramática prescritiva, seria: “processo que fica em débito quer com os recursos atuais da tecnologia, quer com a concentração econômica e administrativa”.
- (B) A expressão *a partir de cima*, associada a *fabricados mais ou menos segundo um plano*, contribui para a construção do sentido de que a indústria cultural não contempla a espontaneidade das massas.
- (C) O segmento *na especulação sobre os efeitos que produz* expressa noção de processo.
- (D) No fragmento está pressuposto que, em tempos de indústria cultural, o controle da sociedade é completo.
- (E) No fragmento, está subentendida a idéia de que, sob certas condições, a *resistência rebelde* é elemento intrínseco à *arte menor*.

4. *Se bem que a especulação da indústria da cultura acerca do estado de consciência ou inconsciência dos milhões de pessoas a quem se dirige seja um fato incontestável, as massas não representam uma realidade primária, mas constituem-se antes como objeto secundário e calculado, um apêndice da engrenagem.*

No período acima transcrito,

- (A) *se bem que* equivale a “tanto que”.
- (B) se houvesse uma vírgula depois de *se bem que*, não haveria prejuízo da norma padrão.
- (C) o emprego da palavra *antes* reforça a idéia de eliminação do que acaba de ser anunciado no primeiro membro coordenado, realizada pelo emprego da conjunção *mas*.
- (D) a palavra *como* tem idêntica natureza e função de *como* encontrado na frase: “As ciências modernas, como a medicina, evoluem rapidamente hoje em dia.”
- (E) se a palavra *antes* fosse deslocada, a nova seqüência “mas constituem-se como objeto secundário e calculado, antes, um apêndice da engrenagem” preservaria o sentido original.

5. *Ela reorganiza o que há muito se tornou hábito, dotando-o de uma nova qualidade.*

Considerada a frase acima, é correto afirmar:

- (A) o prefixo que entra na composição de *reorganizar* tem o mesmo valor que o encontrado em “regredir”.
- (B) o pronome relativo *que* (o *que há*) se refere ao antecedente *o* (o *que há*).
- (C) o pronome *o* (o *que há*) é da mesma natureza do encontrado em *dotando-o*.
- (D) *dotando-o de* equivale a “se lhe favorece com”.
- (E) se fosse colocada uma vírgula depois da expressão *há muito*, a frase estaria também pontuada de acordo com norma padrão da língua escrita.

6. *O cliente não é rei, como a indústria da cultura gostaria de fazer crer; não é o seu sujeito, mas sim o objeto.*

Levando em conta o contexto, considere as afirmações que seguem sobre o autor e seus procedimentos na frase acima.

























- I. Fazendo uso de linguagem conotativa, expressa sua opinião acerca do lugar que o cliente verdadeiramente ocupa no contexto da indústria cultural.
- II. Recorrendo a frase hipotética, explícita, pelo deslocamento da posição do cliente, o que lhe parece ser a relação entre “aquilo que é” e “aquilo que se deseja fazer parecer que é”.
- III. Estabelecendo uma comparação – articulada pelos elementos grifados na frase acima – evidencia que o cliente não constitui preocupação da indústria cultural, embora esta indústria tente criar a ilusão de que a produção é ditada pela expectativa das massas.

É correto o que se afirma em

- (A) I, apenas.
- (B) I e II, apenas.
- (C) II e III, apenas.
- (D) II, apenas.
- (E) I, II e III.

7. A frase em que são levadas em conta as normas de concordância previstas pela gramática normativa é:

- (A) Aquela específica forma cultural de que falávamos, associada a qualquer outra da mesma região, revelam que se pode esperar muito de grupos a que até agora não foi dado atenção.
- (B) Tudo indica que deve existirem técnicas as mais variadas para se fazer publicidade de produtos da indústria cultural, passível, aliás, de serem descritas.
- (C) Elas tinham consciência de ter à disposição só objetos padronizados, mas acreditavam que haveria situações que lhes favoreceriam a criatividade ou que as obrigassem a tê-la.
- (D) É inevitável, em qualquer contexto, as conjecturas sobre aquilo que poderá ser feito, mas, nesse caso, a dificuldade está em se definirem quais os pontos mais relevantes.
- (E) Atualmente, seja quais forem os produtos culturais à disposição, o que se vende é um consenso geral e acrítico, impostos pela publicidade maciça.

<p>8. A frase totalmente de acordo com as normas da gramática prescritiva, no que se refere à regência, é:</p> <p>(A) Eles estão hesitantes por como apresentar o projeto, pois pensaram, inicialmente, em fazer painel explicativo à maneira como funciona a engrenagem.</p> <p>(B) Nem bem chegou o rapaz, ela divisou-lhe, e, aproximando-se a ele rapidamente, entregou as pastas de cujo conteúdo ele já estava a par.</p> <p>(C) A harmonia do homem e a natureza é algo que todos dependem, embora muitos revelem má vontade para com as coisas naturais simplesmente porque não as conhecem bem.</p> <p>(D) Na sua genuína acepção, a cultura nunca se limitou a reproduzir os desejos dos homens, mas sempre ergueu a sua voz contra as duras condições em que se desenrola a vida.</p> <p>(E) Desde o momento que as formas culturais constituíram em ganha-pão dos seus criadores, o mercado começou a agir para ficar propício com elas.</p>	<p>11. Em uma urna temos 3 bolas azuis, cada uma com 5 cm³ de volume, 3 cubos pretos, cada um com 2 cm³ de volume e 1 cubo azul de 3 cm³ de volume. Retirando-se quatro objetos da urna, sem reposição, necessariamente um deles</p> <p>(A) terá volume menor do que 3 cm³.</p> <p>(B) terá volume maior do que 3 cm³.</p> <p>(C) será uma bola.</p> <p>(D) será azul.</p> <p>(E) será preto.</p>												
<p>9. A frase totalmente de acordo com a norma padrão da língua escrita é:</p> <p>(A) Ele requereu que o setor central na indústria da cultura, o cinema, revisse suas práticas, e chegou a pôr sob suspeição métodos que têm suscitado críticas de especialistas.</p> <p>(B) Nem todos quizeram se manifestar, mas os que o fizeram assinalaram o excesso de passivo e a dificuldade de superar a crise, se não sobreviverem boas oportunidades.</p> <p>(C) Se os agentes da cultura não se comporem para evitar os riscos de menosprezo da cultura expon-tânea, por ceticismo em relação àquilo que ela cria, muito se perderá definitivamente.</p> <p>(D) Repuseram a questão de forma a exigir uma análise profunda de seus vários ítems, mas, quando se chegou à tocar no processo de produção cinema-tográfico, a exitação foi grande.</p> <p>(E) Muitos maus-entendidos teriam sido evitados, se alguns tivessem pesquisado melhor a questão e houvessem reconhecido que o projeto contém pontos excelentes.</p>	<p>12. Um certo número de dados de seis faces formam uma pilha única sobre uma mesa. Sabe-se que:</p> <ul style="list-style-type: none"> – os pontos de duas faces opostas de um dado sempre totalizam 7; – a face do dado da pilha que está em contato com a mesa é a do número 6; – os pontos das faces em contato de dois dados da pilha são sempre iguais. <p>Sendo verdadeiras as três afirmações acima, na pilha, a face do dado da pilha mais afastada da mesa</p> <p>(A) necessariamente tem um número de pontos ímpar.</p> <p>(B) tem 6 pontos, se o número de dados da pilha for par.</p> <p>(C) tem 6 pontos, se o número de dados da pilha for ímpar.</p> <p>(D) tem 1 ponto, se o número de dados da pilha for par.</p> <p>(E) necessariamente tem um número par de pontos.</p>												
<p>10. Cada frase abaixo foi reescrita com a substituição do termo grifado por um pronome. Considerando a adequada substituição do pronome e sua devida colocação na frase, de acordo com a norma da gramática prescritiva, há INADEQUAÇÃO em:</p> <p>(A) Na última cena, a avó tocou as faces <u>da menina</u> com carinho. Na última cena, a avó tocou-lhe as faces com carinho.</p> <p>(B) Pensou em questionar; mas questionamentos, quem admite <u>questionamentos</u>? Pensou em questionar, mas questionamentos, quem os admite?</p> <p>(C) Os pais abaixam-se, seguram a filha pelos membros e erguem-na até <u>eles</u>. Os pais abaixam-se, seguram a filha pelos membros e erguem-na até si.</p> <p>(D) Eu julgava <u>aqueles produtores</u> realizados por terem vencido o festival. Eu lhes julgava realizados por terem vencido o festival.</p> <p>(E) Amava-a, a <u>Mariana</u>, à mulher dos seus filhos. Amava-a, a ela, à mulher dos seus filhos.</p>	<p>13. Admita que, a cada semana, um processo seja arquivado em um fórum. Uma proposição aberta, com x sendo um número natural, equivalente à sentença interrogativa “em quantas semanas são arquivados mais de 210 processos nesse fórum?” é:</p> <p>(A) $210x > 7$</p> <p>(B) $210x = 7$</p> <p>(C) $7 + x = 210$</p> <p>(D) $7x = 210$</p> <p>(E) $7x > 210$</p> <p>14. No retângulo abaixo, cada um dos quatro símbolos diferentes representa um número natural. Os números indicados fora do retângulo representam as respectivas somas dos símbolos na linha 2 e nas colunas 2 e 4:</p> <table data-bbox="952 1641 1319 1843"> <tr> <td></td> <td></td> <td></td> <td></td> </tr> <tr> <td></td> <td></td> <td></td> <td></td> </tr> <tr> <td colspan="2">20</td> <td colspan="2">14</td> </tr> </table> <p>30</p> <p>Conclui-se das informações que o símbolo X representa o número</p> <p>(A) 3</p> <p>(B) 5</p> <p>(C) 7</p> <p>(D) 8</p> <p>(E) 9</p>									20		14	
													
													
20		14											

15. Observe a construção de um argumento:

Premissas: Todos os cachorros têm asas.
Todos os animais de asas são aquáticos.
Existem gatos que são cachorros.

Conclusão: Existem gatos que são aquáticos.

Sobre o argumento A, as premissas P e a conclusão C, é correto dizer que

- (A) A não é válido, P é falso e C é verdadeiro.
- (B) A não é válido, P e C são falsos.
- (C) A é válido, P e C são falsos.
- (D) A é válido, P ou C são verdadeiros.
- (E) A é válido se P é verdadeiro e C é falso.

16. Em uma declaração ao tribunal, o acusado de um crime diz:

“No dia do crime, não fui a lugar nenhum. Quando ouvi a campainha e percebi que era o vendedor, eu disse a ele: – hoje não compro nada.

Isso posto, não tenho nada a declarar sobre o crime.”

Embora a dupla negação seja utilizada com certa frequência na língua portuguesa como um reforço da negação, do ponto de vista puramente lógico, ela equivale a uma afirmação. Então, do ponto de vista lógico, o acusado afirmou, em relação ao dia do crime, que

- (A) não foi a lugar algum, não comprou coisa alguma do vendedor e não tem coisas a declarar sobre o crime.
- (B) não foi a lugar algum, comprou alguma coisa do vendedor e tem coisas a declarar sobre o crime.
- (C) foi a algum lugar, comprou alguma coisa do vendedor e tem coisas a declarar sobre o crime.
- (D) foi a algum lugar, não comprou coisa alguma do vendedor e não tem coisas a declarar sobre o crime.
- (E) foi a algum lugar, comprou alguma coisa do vendedor e não tem coisas a declarar sobre o crime.

17. Sabe-se que existem pessoas desonestas e que existem corruptos. Admitindo-se verdadeira a frase “Todos os corruptos são desonestos”, é correto concluir que

- (A) quem não é corrupto é honesto.
- (B) existem corruptos honestos.
- (C) alguns honestos podem ser corruptos.
- (D) existem mais corruptos do que desonestos.
- (E) existem desonestos que são corruptos.

18. Um economista deu a seguinte declaração em uma entrevista: “Se os juros bancários são altos, então a inflação é baixa”.

Uma proposição logicamente equivalente à do economista é:

- (A) se a inflação não é baixa, então os juros bancários não são altos.
- (B) se a inflação é alta, então os juros bancários são altos.
- (C) se os juros bancários não são altos, então a inflação não é baixa.
- (D) os juros bancários são baixos e a inflação é baixa.
- (E) ou os juros bancários, ou a inflação é baixa.

19. A correta negação da proposição “todos os cargos deste concurso são de analista judiciário” é:

- (A) alguns cargos deste concurso são de analista judiciário.
- (B) existem cargos deste concurso que não são de analista judiciário.
- (C) existem cargos deste concurso que são de analista judiciário.
- (D) nenhum dos cargos deste concurso não é de analista judiciário.
- (E) os cargos deste concurso são ou de analista, ou no judiciário.

20. Admitindo que certo Tribunal tem 1 800 processos para serem lidos e que cada processo não possui mais do que 200 páginas, é correto afirmar que

- (A) não existem 2 processos com o mesmo número de páginas.
- (B) não existe processo com exatamente 9 páginas.
- (C) cada processo tem, em média, 9 páginas.
- (D) existem pelo menos 9 processos com o mesmo número de páginas.
- (E) mais de 100 000 páginas serão lidas na realização do serviço.

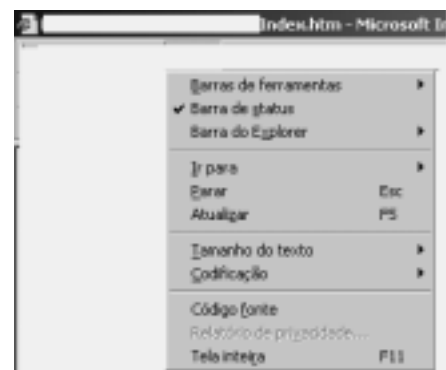
21. A fim de elaborar um documento no Microsoft Word 97, o profissional necessita dividir cada página em três colunas de texto. Para realizar esta operação, uma das possibilidades é a escolha da opção *Colunas...*, pertencente ao menu

- (A) Exibir.
- (B) Inserir.
- (C) Arquivo.
- (D) Editar.
- (E) Formatar.

22. Utilizando-se do sistema operacional Windows 2000, um analista necessita criar uma nova pasta que contenha arquivos. Isto pode ser feito através do Windows Explorer mediante a escolha do menu:

- (A) “Exibir”, opção “Adicionar”, item “Nova Pasta”.
- (B) “Arquivo”, opção “Novo”, item “Pasta”.
- (C) “Favoritos”, opção “Nova”, item “Pasta”.
- (D) “Editar”, opção “Opções de Pasta”, item “Nova Pasta”.
- (E) “Ferramentas”, opção “Novo”, item “Pasta”.

23. Analise:



A figura acima apresenta opções do Internet Explorer, pertencentes ao menu

- (A) Exibir.
- (B) Editar.
- (C) Arquivo.
- (D) Ferramentas.
- (E) Favoritos.

<p>24. No Windows Explorer (do Windows 2000), uma forma alternativa de copiar um arquivo de uma pasta e colá-lo em outra, após selecioná-lo, é utilizar as seguintes teclas combinadas:</p> <p>(A) alt+x para copiá-lo e ctrl+y para colá-lo. (B) ctrl+x para copiá-lo e alt+v para colá-lo. (C) shift+v para copiá-lo e alt+c para colá-lo. (D) ctrl+c para copiá-lo e ctrl+v para colá-lo. (E) esc+x para copiá-lo e alt+v para colá-lo.</p>	<p>27. Quatro servidores públicos federais, lotados no Tribunal Regional do Trabalho da 9ª Região, discutem durante o horário de almoço a respeito do prazo legal para o candidato aprovado em concurso público tomar posse, bem como a partir de quando será contado o respectivo prazo. A esse respeito, considere as proposições abaixo.</p> <p>I. O primeiro servidor entende que a posse deverá ocorrer no prazo de até 15 (quinze) dias, contados da publicação do ato de provimento, ou seja, do ato de homologação do respectivo concurso. II. O segundo servidor sustenta que o aprovado em concurso público deve tomar posse no dia subsequente ao da publicação do ato de provimento. III. O terceiro desses servidores é favorável ao entendimento de que o candidato aprovado em concurso público deve tomar posse no prazo de 30 (trinta) dias contados da publicação do ato de provimento. IV. O último servidor sustenta que o aprovado em concurso público deve tomar posse no prazo de 7 (sete) dias, contados da publicação do ato de nomeação.</p> <p>É correto o que se contém APENAS em</p> <p>(A) IV, mas o prazo pode ser prorrogado por igual período. (B) III, conforme previsão legal. (C) II, porque o edital do concurso assim prevê. (D) I, porém esse prazo é improrrogável. (E) I, mas o prazo pode ser prorrogado por igual período.</p>
<p>25. Em uma correspondência eletrônica (<i>e-mail</i>) um profissional lê, no texto, diversas referências. Algumas seguem o padrão geral da internet e outras não. Três dessas referências lidas são:</p> <p>I. lftp\qualquer\com.br II. http://www.qualquer.com III. qualquer@prov.com.br</p> <p>Ao interpretar tais referências, o profissional deve entendê-las como:</p> <p>(A) I e II fora do padrão internet e III um endereço de <i>site</i> da internet. (B) I um endereço de <i>e-mail</i>, II um endereço de <i>site</i> da internet e III fora do padrão internet. (C) I fora do padrão internet, II um endereço de <i>site</i> da internet e III um endereço de <i>e-mail</i>. (D) I um endereço de <i>site</i> da internet e II e III fora do padrão internet. (E) I e III fora do padrão internet e II um endereço de <i>e-mail</i>.</p>	<p>28. João, servidor público responsável pela fiscalização em estabelecimentos comerciais, sofreu acidente automobilístico que o deixou impossibilitado de andar e, portanto, de continuar a exercer suas funções. Consequentemente, foi investido em cargo de atribuições e responsabilidades compatíveis com a limitação sofrida em sua capacidade física. Referido provimento derivado corresponde ao ato denominado</p> <p>(A) readaptação. (B) reversão. (C) reintegração. (D) recondução. (E) disponibilidade.</p>
<p>26. No que diz respeito ao Ministério Público, considere:</p> <p>I. Dentre as funções institucionais do Ministério Público do Trabalho, encontra-se a de representação judicial das entidades públicas, inclusive daquelas vinculadas à Justiça do Trabalho. II. Os membros do Ministério Público do Trabalho não podem, em nenhuma hipótese, exercer, ainda que em disponibilidade, qualquer outra função pública. III. O Ministério Público abrange o Ministério Público da União, que compreende, dentre outros, o Ministério Público do Trabalho. IV. São garantias dos membros do Ministério Público do Trabalho a vitaliciedade, após dois anos de exercício, a inamovibilidade, salvo por motivo de interesse público, e, de regra, a irredutibilidade de subsídio.</p> <p>Nesses casos, é correto o que se contém APENAS em</p> <p>(A) III e IV. (B) II e IV. (C) II e III. (D) I e III. (E) I e II.</p>	<p>29. Waldir Pereira, servidor público federal, foi condenado pela prática de improbidade administrativa por ter frustrado a licitude de concurso público. Diante da decisão judicial transitada em julgado, deverá ser aplicada ao servidor, na esfera administrativa, a penalidade de</p> <p>(A) advertência. (B) suspensão. (C) remoção. (D) demissão. (E) readaptação.</p> <p>30. Marcelo Valadares é brasileiro nato, enquanto Luigi Biagi é brasileiro naturalizado. Nessas condições, Marcelo e Luigi poderão ocupar, respectivamente, os cargos de</p> <p>(A) Juiz do Trabalho e Cônsul da Carreira Diplomática. (B) Ministro da Justiça e Presidente da Câmara dos Deputados. (C) Ministro do Superior Tribunal de Justiça e Capitão do Exército. (D) Procurador-Geral da República e Ministro de Estado da Defesa. (E) Ministro do Supremo Tribunal Federal e Ministro do Trabalho e Emprego.</p>

CONHECIMENTOS ESPECÍFICOS**MEDICINA – CLÍNICA GERAL**

31. Uma jovem de 18 anos, previamente hígida, queixa-se de edema de face e de pernas há 2 dias, acompanhado de dispnéia aos esforços. Relata quadro gripal há 2 semanas, ocasião em que fez uso de diclofenaco de sódio 150 mg por 2 dias. Ao exame nota-se pulso = 100 bat/min, PA = 178 x 100 mmHg, estase venosa jugular, ritmo cardíaco de galope, estertores finos nas bases pulmonares e edema palpebral e pré-tibial 2+. Na avaliação laboratorial desta paciente espera-se encontrar as alterações abaixo, EXCETO

- (A) complemento baixo.
- (B) uréia e creatinina elevadas.
- (C) proteinúria.
- (D) FAN positivo.
- (E) cilindros hemáticos no sedimento urinário.

32. Uma mulher de 52 anos, assintomática, realizou exames laboratoriais de rotina e foi detectado um aumento do cálcio sérico, posteriormente confirmado. Ela faz uso, há 4 anos, de metformina 1.700 mg/dia e, há 6 meses, hidroclorotiazida 50 mg e enalapril 10 mg por dia. A melhor conduta é

- (A) solicitar radiografia de ossos longos e de calota craniana.
- (B) suspender o diurético e reavaliar após alguns dias.
- (C) trocar o enalapril por betabloqueador e reavaliar após alguns dias.
- (D) solicitar cintilografia óssea.
- (E) solicitar dosagem de paratormônio.

33. Um homem de 44 anos, com índice de massa corporal = 28 kg/m², realiza exames laboratoriais de rotina e constata-se ácido úrico = 9 mg/dL (limite superior = 7,0 mg/dL). Realizou também ultra-sonografia total de abdome, cujo resultado foi normal. O médico que o atende deve indicar baixa ingestão de bebidas alcoólicas, dieta pobre em purina e

- (A) alopurinol.
- (B) colchicina, dose profilática.
- (C) uma droga uricosúrica.
- (D) rica em carboidratos.
- (E) de baixo teor calórico.

34. Uma mulher de 36 anos, em tratamento de depressão com fluoxetina 40 mg/dia há 2 anos, queixa-se de dores difusas em todo o corpo, há cerca de 3 meses, sem melhora com antiinflamatórios não hormonais e analgésicos comuns. O médico suspeita de fibromialgia. A confirmação do diagnóstico poderá ser concretizada pela presença de

- (A) achados típicos positivos no exame físico.
- (B) aumento de creatinoquinase sérica e da velocidade de hemossedimentação.
- (C) FAN positivo.
- (D) resposta terapêutica excelente com o uso de prednisona em dose baixa.
- (E) fator reumatóide positivo e aumento da velocidade de hemossedimentação.

35. Nos pacientes com anemia falciforme espera-se encontrar

- (A) poliadenomegalia.
- (B) haptoglobina indetectável.
- (C) esplenomegalia.
- (D) esquizócitos no sangue periférico.
- (E) corpúsculos de Howell-Jolly no sangue periférico.

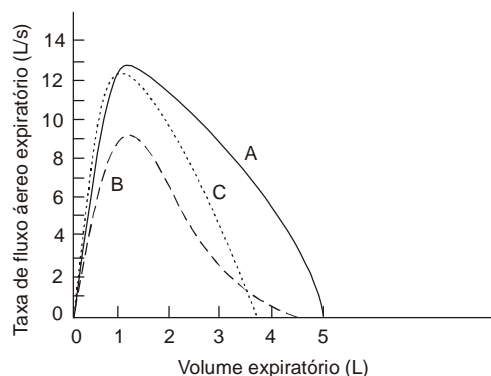
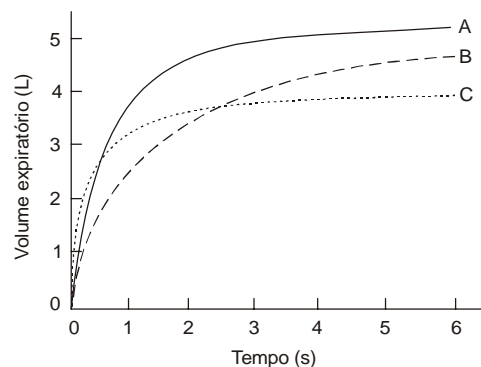
36. Nos exames laboratoriais de um paciente com anemia provocada por sangramento digestivo crônico espera-se encontrar

- (A) macrocitose com hipocromia no sangue periférico.
- (B) ferro sérico baixo, com estoque de ferro na medula preservado.
- (C) saturação de transferrina baixa.
- (D) capacidade sérica total de ligação de ferro diminuída.
- (E) ferritina normal ou alta.

37. Um homem de 70 anos, com queixa de dificuldade na marcha, é atendido por um neurologista que diagnostica comprometimento de cordão medular posterior. De posse dos exames laboratoriais, ele solicita uma avaliação clínica devido à presença de Hb = 6,5 g/L, com VCM = 118 fL, leucócitos = 3.000/mm³, plaquetas = 90.000/mm³, bilirrubinas totais = 3,0 mg/dL, sendo 2,5 mg/dL indireta e DHL = 4.200 UI. O diagnóstico mais provável é de

- (A) mielodisplasia.
- (B) hemoglobinúria paroxística noturna.
- (C) hipotireoidismo.
- (D) deficiência de vitamina B12.
- (E) deficiência de ácido fólico.

38. As curvas A, B e C nos gráficos abaixo representam, respectivamente, os padrões:



- (A) obstrutivo, normal e restritivo.
- (B) normal, obstrutivo e restritivo.
- (C) obstrutivo, restritivo e normal.
- (D) normal, restritivo e obstrutivo.
- (E) restritivo, obstrutivo e normal.

<p>39. No tratamento da asma, as drogas modificadoras de leucotrienos</p> <p>(A) podem ser indicadas como alternativa ao uso de corticoesteróides inalatórios, na asma persistente leve.</p> <p>(B) diminuem o número de internações hospitalares, quando usadas no início de uma crise.</p> <p>(C) são as de escolha no tratamento inicial da asma alérgica.</p> <p>(D) substituem com vantagem os corticoesteróides inalatórios ou sistêmicos, na asma persistente grave.</p> <p>(E) são as de escolha na asma noturna.</p>	<p>43. Hiponatremia, como causa de rebaixamento do nível de consciência, deve ser suspeitada nas situações abaixo, EXCETO</p> <p>(A) síndrome de Cushing.</p> <p>(B) hemorragia sub-aracnóide.</p> <p>(C) mixedema.</p> <p>(D) trauma crânio-encefálico.</p> <p>(E) doença de Addison.</p>
<p>40. Uma mulher de 68 anos, em uso de enalapril 10 mg e metformina 850 mg por dia, procura atendimento no pronto-socorro com queixa de febre, tosse e dor pleural à direita há 2 dias. Está alerta, orientada, com frequência respiratória = 24 mov/min, pulso = 118 bat/min, PA = 100 × 68 mmHg, T = 38,6 °C e apresenta estertores crepitantes no terço inferior do pulmão direito. Os exames mostram Hb = 13 g/dL, leucócitos = 14.000/mm³, com 10% bastonetes e 68% segmentados, plaquetas = 188.000/mm³, glicemia = 230 mg/dL, uréia, creatinina, sódio e potássio normais, saturando 92% em ar ambiente. A radiografia de tórax mostra condensação alveolar no lobo médio. A melhor conduta é</p> <p>(A) iniciar tratamento com levofloxacina IV e manter a paciente no hospital para observação da evolução por 24 a 48 horas.</p> <p>(B) internar a paciente e tratar com levofloxacina e clindamicina IV.</p> <p>(C) tratamento ambulatorial com claritromicina.</p> <p>(D) tratamento ambulatorial com amoxicilina, cefalosporina de primeira geração ou sulfametoxazol-trimetoprim.</p> <p>(E) internar a paciente e tratar com ceftriaxona e azitromicina IV.</p>	<p>44. Uma mulher de 34 anos, com diagnóstico recente de doença de Graves, passa a receber 600 mg/dia de propiltiouracil. Além de avaliações periódicas dos níveis de TSH, T4 e T3, é necessária também a monitorização de</p> <p>(A) LH e FSH.</p> <p>(B) leucócitos.</p> <p>(C) plaquetas.</p> <p>(D) tireoglobulina.</p> <p>(E) prolactina.</p> <p>45. Uma mulher de 60 anos, obesa, diabética há 15 anos, faz uso de metformina 1.000 mg/dia e glimepirida 6 mg/dia. A avaliação laboratorial mostra glicemia de jejum = 220 mg/dL, hemoglobina glicosilada = 9,4%, uréia e creatinina normais e proteinúria = 0,750 mg/dL. Além de ser orientada quanto à necessidade de perder peso, o médico deve alterar a terapêutica. A melhor opção, dentre os esquemas abaixo, será:</p> <p>(A) trocar metformina e glimepirida por rosiglitazona e insulina lenta.</p> <p>(B) trocar os hipoglicemiantes orais por insulina lenta dividida em 2 doses diárias.</p> <p>(C) aumentar a dose de metformina e iniciar inibidor da ECA.</p> <p>(D) iniciar insulina regular conforme a glicemia capilar, a ser obtida 3 vezes ao dia.</p> <p>(E) trocar metformina por repaglinida e iniciar bloqueador de canal de cálcio.</p>
<p>41. A melhor opção terapêutica em caso de bacteriúria assintomática em mulher grávida é</p> <p>(A) tratar com doxiciclina.</p> <p>(B) não tratar, até o aparecimento de sintomas.</p> <p>(C) somente tratar, com ciprofloxacina ou doxiciclina, no período periparto.</p> <p>(D) tratar, com ciprofloxacina, se ocorrer no primeiro trimestre.</p> <p>(E) tratar com cefalexina ou ampicilina.</p>	<p style="text-align: center;">PSIQUIATRIA</p> <p>46. Segundo a Lei nº 10.216/2001, que regulamenta a assistência às pessoas com distúrbios mentais,</p> <p>I. a internação pode ser indicada mesmo se houver recursos extra-hospitalares suficientes para o tratamento do quadro psiquiátrico.</p> <p>II. é vedada a internação de portadores de doença mental em instituições de características asilares.</p> <p>III. são dois os tipos de internação psiquiátrica: voluntária e involuntária.</p> <p>IV. pesquisas clínicas para fins diagnósticos podem ser realizadas nos pacientes internados, mesmo sem o consentimento, necessário apenas para as pesquisas com fins terapêuticos.</p> <p>É correto o que se afirma APENAS em</p> <p>(A) I e III.</p> <p>(B) II.</p> <p>(C) II e III.</p> <p>(D) II e IV.</p> <p>(E) III.</p>
<p>42. O tratamento empírico inicial em um paciente neutropênico, com febre, deve ser orientado, tendo em vista a cobertura antibiótica para infecções causadas por</p> <p>(A) germes Gram negativos e fungos.</p> <p>(B) germes Gram negativos e anaeróbios.</p> <p>(C) enterococos e estafilococos coagulase negativos.</p> <p>(D) germes Gram negativos entéricos e <i>Pseudomonas sp.</i></p> <p>(E) enterococos e <i>Staphylococcus aureus</i>.</p>	

<p>47. Rapaz de 24 anos recorre a tratamento com queixa de grande desconforto quando tem que apresentar seminários em seu curso de pós-graduação, pois fica muito ansioso. Refere que já chegou até a chorar em uma dessas situações. Tem apresentado esse problema desde que iniciou o curso há 1 ano e meio. Já chegou a simular estado gripal para faltar à apresentação de um dos seminários. Foi a um médico clínico geral, que realizou vários exames, sem encontrar nenhuma alteração. O diagnóstico mais provável, medicação mais apropriada para o tratamento e prevalência durante a vida, respectivamente, são:</p> <p>(A) fobia social, benzodiazepínico, 0,05% a 0,01%. (B) agorafobia, antidepressivo, 0,2% a 1%. (C) pânico, benzodiazepínico, 1% a 3%. (D) fobia social, antidepressivo, 3% a 13%. (E) agorafobia, benzodiazepínico, 5% a 10%.</p>	<p>51. Em relação à <i>naltrexona</i>, é correto afirmar que</p> <p>(A) o bloqueio dos efeitos dos opióides, com uma dose única do medicamento, se dá por 24 horas. (B) é um agonista dos receptores opióides. (C) tem absorção lenta no trato gastrointestinal. (D) a meia-vida da substância é de 4 a 7 horas. (E) o pico de concentração plasmática se dá aproximadamente 1 hora após a ingestão do medicamento.</p>
<p>48. A internação psiquiátrica involuntária, segundo a Lei nº 10.216/2001, que regulamenta a assistência às pessoas com distúrbios mentais,</p> <p>(A) deve ser comunicada ao Ministério Público Estadual apenas na internação, até 48 horas de sua ocorrência. (B) deve ser comunicada ao Ministério Público Estadual até 48 horas após a internação e na alta. (C) deve ser comunicada ao Ministério Público Estadual até 72 horas após a internação e na alta. (D) deve ser comunicada ao Ministério Público Estadual apenas na internação, até 72 horas de sua ocorrência. (E) não necessita de comunicação obrigatória ao Ministério Público Estadual.</p>	<p>52. Analise as afirmações sobre a <i>doença de Tourette</i>:</p> <p>I. podem aparecer anomalias no EEG e na tomografia de crânio. II. é três vezes mais freqüente em meninos do que em meninas. III. a prevalência é em torno de 0,05%. IV. é mais comum em adultos do que em crianças. V. os sintomas motores geralmente têm início posteriormente aos sintomas vocais.</p> <p>É correto o que se afirma em</p> <p>(A) I, II e III, apenas. (B) I, III e V, apenas. (C) II, III e V, apenas. (D) II, III e IV, apenas. (E) I, II, III, IV e V.</p>
<p>49. Dentre os receptores de dopamina, relaciona-se à presença dos efeitos extrapiramidais e hiperprolactinemia:</p> <p>I. D5. II. D4. III. D3. IV. D2. V. D1.</p> <p>É correto o que se afirma APENAS em</p> <p>(A) IV e V. (B) IV. (C) II e III. (D) II. (E) I e II.</p>	<p>53. Quadro demencial de progressão lenta, relacionado a gene autossômico dominante, com sintomas que aparecem geralmente na terceira e quarta década de idade, é a demência</p> <p>(A) na Doença de Pick. (B) na Doença de Alzheimer. (C) Vascular. (D) na Doença de Creutzfeldt Jakob. (E) na Doença Huntigton.</p>
<p>50. ECT é um tratamento biológico que pode ser indicado para as seguintes patologias:</p> <p>I. Doença de Parkinson, Esquizofrenia e Depressão Maior. II. Esclerose Múltipla, Transtorno Obsessivo Compulsivo e Catatonia. III. Síndrome Neuroléptica Maligna, Psicose Puerperal e Doença de Parkinson. IV. Epilepsia, Esclerose Múltipla e Depressão Psicótica.</p> <p>É INCORRETO o que se afirma em</p> <p>(A) I e III, somente. (B) I e IV, somente. (C) III, somente. (D) II e IV, somente. (E) I, II, III e IV.</p>	<p>54. Analise:</p> <p>I. No tratamento da <i>narcolepsia</i>, não é recomendado o uso de antidepressivos tricíclicos. II. A <i>narcolepsia</i> é usualmente tratada com anfetaminas e metilfenidato. III. A <i>catalepsia</i> é um sintoma exclusivo da narcolepsia. IV. A <i>catalepsia</i> é caracterizada pela perda temporária do tônus muscular em resposta a estímulos emocionais.</p> <p>É correto o que se afirma em</p> <p>(A) I e III, somente. (B) I, III e IV, somente. (C) II e IV, somente. (D) II, III e IV, somente. (E) I, II, III e IV.</p>

<p>55. São critérios diagnósticos da <i>ansiedade de separação</i>, segundo o DSM-IV:</p> <ul style="list-style-type: none"> I. duração dos sintomas por, pelo menos, 4 semanas. II. início dos sintomas antes do 18 anos. III. é considerada de início precoce se antes dos 6 anos. IV. pode incluir recusa ou relutância freqüente para ir à escola. V. pesadelos com temática de separação são freqüentes. <p>É correto o que se afirma em</p> <ul style="list-style-type: none"> (A) I, II, III, IV e V. (B) II, III e V, somente. (C) I, III, IV e V, somente. (D) I, II, III e V, somente. (E) I, II e IV, somente. 	<p>58. Considere:</p> <ul style="list-style-type: none"> I. hiperconexão sensorial límbica (<i>kindling</i>), epilepsia de difícil controle e politerapia. II. disfunção lobo temporal, hiperconexão sensorial límbica (<i>kindling</i>) e monoterapia. III. antecedente familiar de transtornos mentais, hiperconexão sensorial límbica (<i>kindling</i>) e politerapia. IV. epilepsia de início precoce, epilepsia de difícil controle e politerapia. V. antecedente pessoal de transtorno mental, epilepsia de início precoce e monoterapia. <p>São fatores predisponentes para o aparecimento de transtornos mentais interictais em pacientes epiléticos APENAS:</p> <ul style="list-style-type: none"> (A) I, II e III. (B) I, III e IV. (C) II, III e IV. (D) III, IV e V. (E) IV e V.
<p>56. Em relação ao transtorno depressivo breve recorrente:</p> <ul style="list-style-type: none"> I. tem prognóstico melhor, quanto mais precoce ocorrer o quadro. II. relaciona-se ao uso crônico de antidepressivo e, nesses casos, deve ser substituída a medicação por estabilizador de humor, na fase de manutenção. III. evolui sistematicamente para Transtorno Depressivo Recorrente. IV. ocorre mais freqüentemente em adolescentes e relaciona-se a um risco aumentado de suicídio. <p>É correto o que se afirma em</p> <ul style="list-style-type: none"> (A) I, somente. (B) I e III, somente. (C) II e IV, somente. (D) IV, somente. (E) I, II, III e IV. 	<p>59. São fatores de risco para aparecimento de <i>delirium</i> pós ECT:</p> <ul style="list-style-type: none"> (A) dano cerebral, primeira crise convulsiva da série, abstinência por retirada de medicação e uso de medicação psicoativa. (B) antecedente de alcoolismo ou uso de droga, presença de distúrbio <i>diabetes mellitus</i>, HAS e idade precoce. (C) sexo feminino, idade avançada, gravidade da depressão e síndrome de abstinência. (D) início precoce da doença, uso concomitante de medicamentos e antecedente de tratamento com ECT. (E) dano cerebral, antecedente de <i>delirium</i> pós ECT e idade precoce.
<p>57. A síndrome da fadiga crônica é caracterizada pela presença, por 6 meses ou mais, de fadiga crônica, usualmente acompanhada por mialgia, dores de cabeça, faringite, febre baixa, queixas de alterações cognitivas e alterações gastrintestinais. Sobre esta síndrome, é correto afirmar que tem incidência estimada em</p> <ul style="list-style-type: none"> (A) 0,01%, observada principalmente em adultos acima dos 40 anos, mais freqüente entre os homens. (B) 0,01%, observada principalmente em adultos jovens (20 a 40 anos), mais freqüente entre os homens. (C) 0,1%, observada principalmente em adultos jovens (20 a 40 anos), mais freqüente entre as mulheres. (D) 0,1%, observada principalmente em adultos jovens (20 a 40 anos), mais freqüente entre os homens. (E) 0,1%, observada principalmente em adultos acima dos 40 anos, mais freqüente entre as mulheres. 	<p>60. Os receptores alfa1, histaminérgicos e colinérgicos, associam-se aos seguintes efeitos colaterais de neurolépticos, respectivamente:</p> <ul style="list-style-type: none"> (A) potencialização do álcool e sedativos, boca seca e constipação. (B) hiperprolactinemia, sedação e hipotensão postural. (C) boca seca, hipotensão postural e ganho de peso. (D) sedação, boca seca e extrapiramidais. (E) hipotensão postural, sedação e retenção urinária.